


Time: 10 Minutes	Paper Math 2	Total Marks: 10
------------------	--------------	-----------------

6th Month, 4th Week, 4th Day	Syllabus: Review Exercise. Q # 1, 2, 3.
------------------------------	---

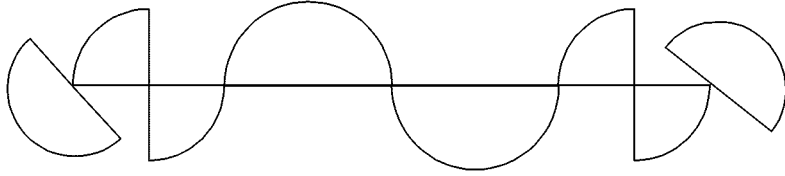
Q.1. Draw a rectangle, triangle and square using the grid. (5)

جال کے استعمال سے مستطیل، مثلث اور مربع بنائیں۔



Q.2. Write the total number of semi-circle and quarter circle in the given shape. (5)

دی گئی اشکال میں نصف دائرے اور کوارٹر سرکل کی تعداد بتائیں۔



Semi-circles نصف دائرے \_\_\_\_\_

Quarter-circles کوارٹر سرکل \_\_\_\_\_

---



---



---



---




---

Time: 10 Minutes	Paper Math 2	Total Marks: 10
------------------	--------------	-----------------

6th Month, 4th Week, 4th Day	Syllabus: Review Exercise. Q # 1, 2, 3.
------------------------------	---

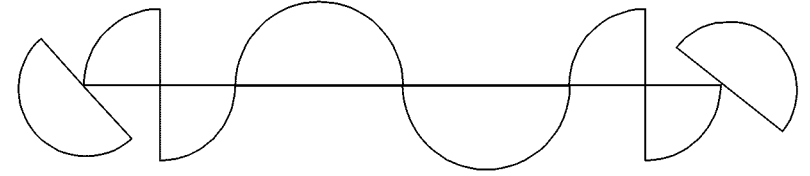
Q.1. Draw a rectangle, triangle and square using the grid. (5)

جال کے استعمال سے مستطیل، مثلث اور مربع بنائیں۔



Q.2. Write the total number of semi-circle and quarter circle in the given shape. (5)

دی گئی اشکال میں نصف دائرے اور کوارٹر سرکل کی تعداد بتائیں۔



Semi-circles نصف دائرے \_\_\_\_\_

Quarter-circles کوارٹر سرکل \_\_\_\_\_

---



---



---



---



---